











Odszyfruj zakodowane działania i zapisz je w wyznaczonych miejscach. Kod znajdziesz w tabelce poniżej.

									
0	1	2	3	4	5	6	7	8	9

$$\text{stork} + \text{flower} = \text{stork} + \text{frog}$$

$$2 \times \text{beetle} + \text{frog} + \text{ant} + \text{flower} =$$

$$\text{orchid} + \text{swallow} - \text{snail} - \text{bird} =$$

$$\text{frog} + \text{tulip} + \text{ant} + \text{orchid} + \text{bird} =$$

$$\text{stork} + \text{flower} + \text{flower} - \text{frog} - \text{beetle} + \text{stork} + \text{flower} =$$